


نام.....	باسمه تعالی	شماره دانش آموز.....
نام خانوادگی.....	اداره کل آموزش و پرورش استان زنجان	تاریخ ۹۸/۰۳/۵
نام پدر.....	آموزش و پرورش ناحیه دو زنجان	مدت امتحان ۹۰ دقیقه
نام دبیر.....	دبیرستان شهید بهشتی ۲ (دوره اول)	تعداد صفحات: ۴
کلاس.....	امتحان: ریاضی پایه هشتم نام طراح: سید مسعود هاشمی	شماره صفحه: ۱

بارم	سوالات	ردیف
۰/۵ ۰/۵ ۱	<p>درستی یا نادرستی عبارت های زیر را مشخص کنید. اندازه ی بزرگ ترین وتر هر دایره با محیط آن برابر است. اگر احتمال وقوع یک پیشامد $\frac{2}{3}$ باشد احتمال رخ ندادن آن $\frac{1}{3}$ است. ب) جاهای خالی را با کلمات یا اعداد مناسب کامل کنید. شعاع دایره در نقطه ی تماس بر خط مماس..... است. اندازه ی هر زاویه ی خارجی هیجده ضلعی منتظم؛درجه است. ج) دور گزینه صحیح خط بکشید. برای تعیین اعداد اول از ۱ تا ۲۰۰؛ با روش غربال آخرین عددی که خط می خورد کدام است؟</p> <p style="text-align: center;"> ۱۹۹ (۴) ۱۶۹ (۳) ۱۹۶ (۲) ۲۰۰ (۱) </p> <p style="text-align: center;">اگر $2^a = 10$ حاصل باشد 4^{a+1} برابر است با:</p> <p style="text-align: center;"> ۱۰۴(۴) ۴۰(۳) ۴۴(۲) ۴۰۰ (۱) </p>	۱
۱ ۱	<p>حاصل هر عبارت را حساب کنید.</p> $\frac{1}{5 \times 8} + \frac{1}{8 \times 11} + \frac{1}{11 \times 14} + \dots + \frac{1}{32 \times 35} =$ $2 + \frac{1}{2 + \frac{1}{2 + \frac{1}{-2}}} =$	۲
۱	<p>یک سکه و یک تاس را همزمان می اندازیم: احتمال های زیر را حساب کنید.</p> <p>الف) احتمال این که سکه <u>رو</u> و تاس <u>حداقل ۳</u> بیاید.</p> <p>ب) احتمال این که تاس <u>عدد اول</u> و سکه <u>پشت</u> بیاید.</p>	۳
۰/۵ ۰/۷۵	<p>الف) مجموع دو عدد اول ۹۹ می باشد؛ آن دو عدد کدامند؟</p> <p>ب) حاصل عبارت زیر را به صورت عددی توان دار بنویسید.</p> $(3^5 + 3^5 + 3^5)(3^{11} + 3^{11} + 3^{11}) =$	۴

۰/۵	 <p>الف) باتوجه به شکل بردار خواسته شده را رسم کنید.</p> $\vec{a} + \vec{b} - \vec{c}$ <p>ب) مقدار m را چنان تعیین کنید که نقطه ی $\left[\begin{matrix} 2m-1 \\ -3 \end{matrix} \right]$ وسط پاره خط AB باشد.</p>	۵
۰/۵	$B = \begin{bmatrix} -2 \\ -1 \end{bmatrix} \quad A = \begin{bmatrix} -3 \\ 5 \end{bmatrix}$	
۰/۵	$3(\Delta a^x b - 2ba^x + 1) + 2ab(-3a) =$	۶
۰/۵	$(x - 2y)(x^2 + 2xy + 4y^2) =$	
۰/۵	<p>فرض کنید $\vec{a} = 2\vec{i} - 3\vec{j}$ و $\vec{b} = 4\vec{j}$ باشد.</p> <p>الف) تساویها را کامل کنید.</p> $\vec{a} = \begin{bmatrix} \quad \\ \quad \end{bmatrix} \quad \vec{b} = \begin{bmatrix} \quad \\ \quad \end{bmatrix}$ <p>ب) مختصات بردار مجهول را بر حسب بردارهای واحد مختصات به دست آورید.</p>	۷
۰/۵	$\vec{x} = -3\vec{a} + \frac{1}{2} \vec{b} =$	
۰/۷۵	$\frac{1}{x} + \frac{5}{2x} + \frac{7}{4x} + \frac{6}{8x} = \frac{3}{2}$ <p>ب) اگر $a - b = 5$ باشد؛ حاصل عبارت زیر را به دست آورید.</p>	۸
۰/۷۵	$\frac{2a}{2b} + 2a - 2b =$	
ادامه سوالات در صفحه ۳		

۹

الف) عدد $3-2\sqrt{3}$ را روی محور نمایش دهید.

۰/۷۵

ب) حاصل عبارت زیر را به دست آورید.

۰/۷۵

$$\left(\frac{\sqrt{5}+1}{2}\right)^{200} \cdot \left(\frac{\sqrt{5}-1}{2}\right)^{200} =$$

۱۰

با توجه به جدول مقابل؛ میانگین داده ها را به دست آورید.

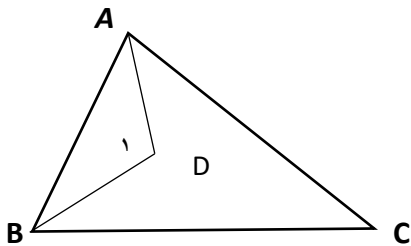
مرکز دسته	فراوانی
x	۲
۳	۶
۲	۵
$2 - \frac{x}{2}$	۴

۱

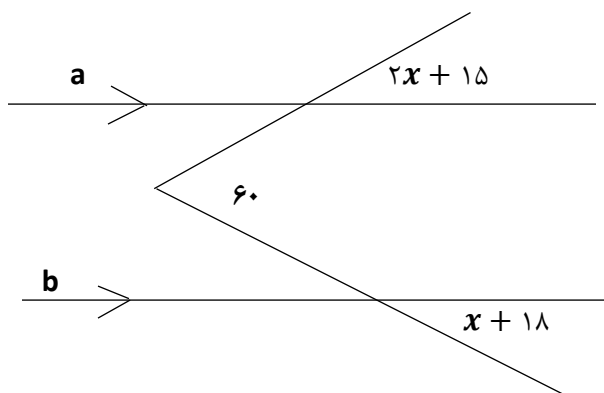
۱۱

الف) در شکل زیر BD, AD نیمسازند. اگر $\widehat{C} = 56^\circ$ باشد؛ اندازه $\widehat{D_1}$ را حساب کنید.

۱

ب) در شکل زیر a, b موازی و می باشند مقدار x را به دست آورید.

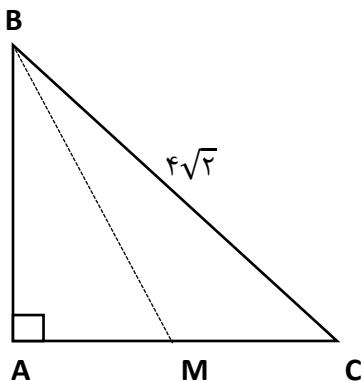
۰/۷۵



ادامه ی سوالات در صفحه ۴

۱۲

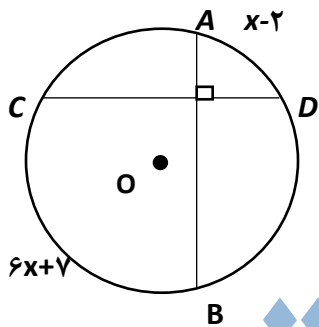
در شکل زیر؛ $AB = AC$ است. اندازه ی میانه ی BM را حساب کنید.



۱/۵

۱۳

الف) در شکل زیر؛ وترهای AB, CD بر هم عمودند. اندازه ی کمان BC را به دست آورید.



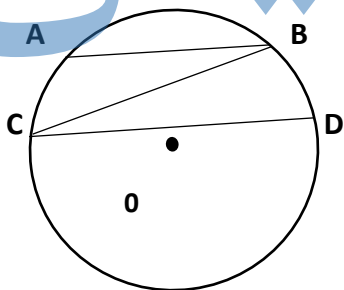
ب) ثابت کنید در هر دایره؛ وترهای نظیر کمان های مساوی؛ باهم برابرند.

۱

۰/۷۵

۱۴

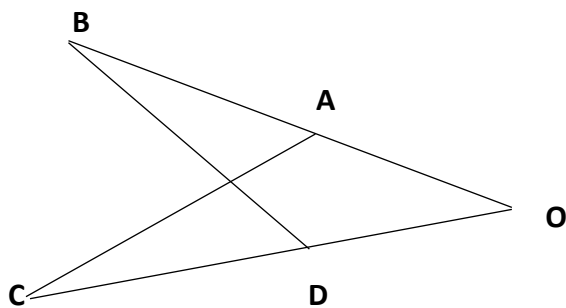
الف) با توجه به شکل؛ ثابت کنید کمان های محصور بین دو وتر موازی از یک دایره باهم مساویند.



ب) در شکل زیر $AB = CD$ و $AO = DO$ ثابت کنید $AC = BD$.

۰/۷۵

۱



موفق و پیروز باشید

جمع نمرات

۲۰